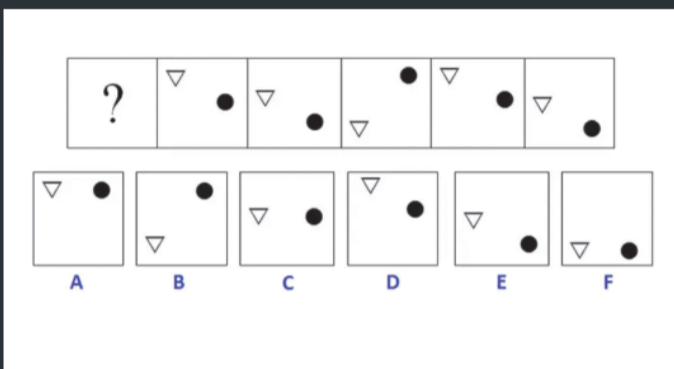



هوش استدلال

تصویری و تجسمی خود را بسنجید

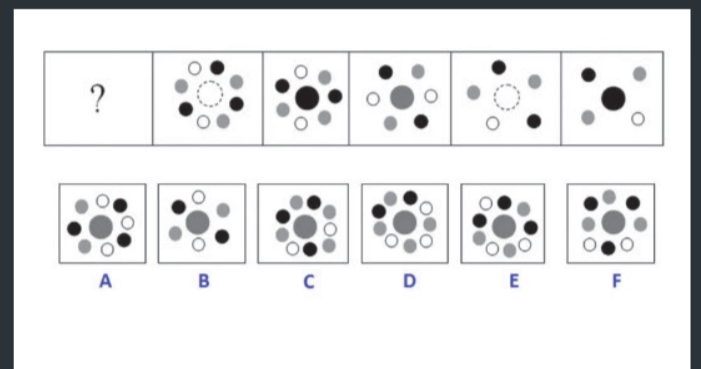
سؤالات تستی استدلال تصویری بر پایه منطق علاوه بر سرگرمی، کمک می‌کند که میزان هوش خود در این زمینه را بسنجید و ذهن خود را تقویت کنید. سعی کنید اشکال را به صورت سه بعدی تجسم کنید و برای تقویت هوش خود در این زمینه اشکال چند بعدی را جلوی آینه بچرخانید. اینها راه‌هایی برای تقویت ذهن شما به منظور درک بهتر تصاویر فضایی و چند بعدی است. با تمرین هر چه بیشتر می‌توانید مهارت‌های استدلال فضایی و تصویری خود را بهبود ببخشید. در نهایت پاسخ صحیح سؤالات و توضیحاتی درباره برخی از آنها داده شده است.



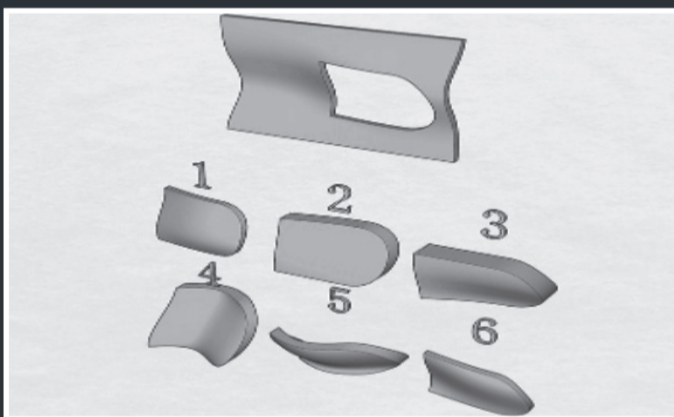
۱. تصویر بعدی از نظر منطقی کدام است؟



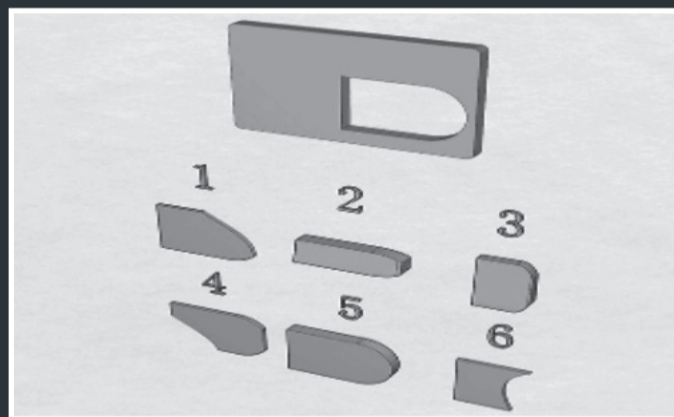
۲. حدس بزنید تصویر بعدی کدام گزینه است؟




۳. تصویر بعدی از نظر منطقی کدام است؟



۴. تصویر بعدی از نظر منطقی کدام است؟



۵. کدام یک از شکل‌های زیر می‌تواند جای خالی تصویر را پر کند؟ نکته: ممکن است شیء برعکس، وارونه و چرخیده باشد.



۶. کدام شکل می‌تواند جایگزین فضای خالی شود؟

پاسخ سؤالات و تشریح برخی از آنها

پاسخ سؤال ۱: گزینه E

در شکل شماره ۱، یک دایره مرکزی وجود دارد که توسط هشت دایره احاطه شده است. رنگ دایره مرکزی از خاکستری به ترتیب به سیاه و سفید تغییر می‌کند. در هر مرحله یک دایره به ترتیب دایره‌های سفید، سیاه و خاکستری حذف می‌شود. ترتیب دایره‌های باقی مانده تصادفی است.

پاسخ سؤال ۲: گزینه F

چهار فلش وجود دارد. در هر مرحله از مجموعه، اولین فلش ۴۵ درجه در جهت عقربه‌های ساعت می‌چرخد. فلش دوم ۴۵ درجه در خلاف عقربه‌های ساعت می‌چرخد. فلش سوم و فلش چهارم بازتابی از دو فلش اول در صفحه افقی است.

پاسخ سؤال ۳: گزینه B

دو شکل وجود دارد؛ یک مثلث و یک دایره. در هر مرحله داخل هر مربع، هم دایره و هم مثلث یک پله به سمت پایین و یک خط عمودی حرکت می‌کند. هر شکل وقتی به پایین بلوک می‌رسد، به بالای بلوک بعدی برمی‌گردد.

پاسخ سؤال ۴: گزینه E

هر بلوک در این سری شامل یک فلش در هر گوشه است. در هر مرحله از سری جهت دو فلش مجاور معکوس می‌شود. این فرایند با فلش‌های گوشه سمت چپ بالا و گوشه سمت چپ پایین شروع می‌شود. دو فلش مجاور بعدی - که یک شکل را خلاف جهت عقربه‌های ساعت حرکت می‌دهند - فلش‌های گوشه سمت چپ پایین و گوشه سمت راست است.

پاسخ سؤال ۵: گزینه ۵

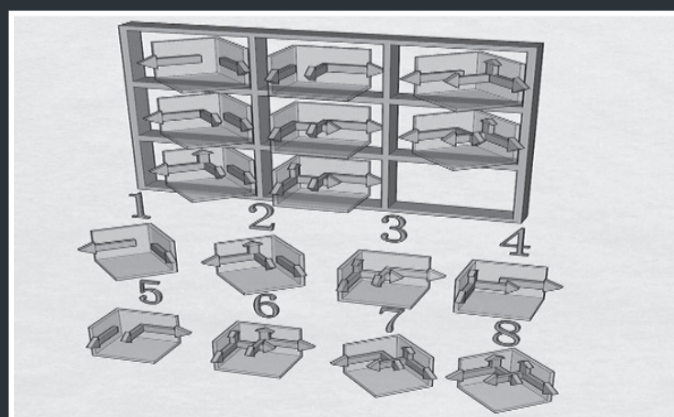
پاسخ سؤال ۶: گزینه ۶

پاسخ سؤال ۷: گزینه ۱

پاسخ سؤال ۸: گزینه ۸

پاسخ سؤال ۹: گزینه ۱

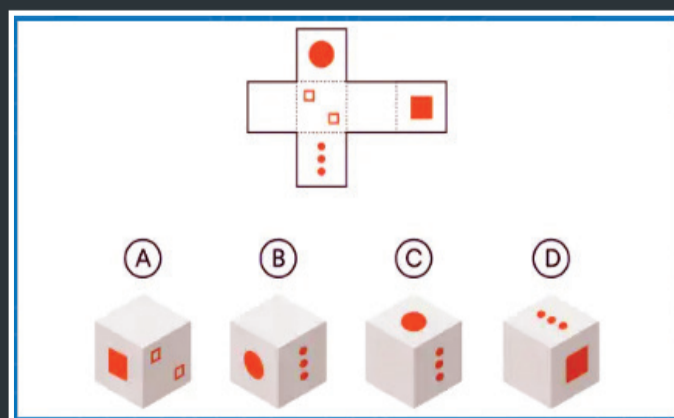
پاسخ سؤال ۱۰: گزینه D




۷. تصویر منطقی بعدی چیست؟



۸. تصویر منطقی بعدی چیست؟



۹. تصویر منطقی بعدی چیست؟



۱۰. اگر الگوی مقابل تا زده شود و به یک مکعب تبدیل شود، کدام شکل با الگو مطابقت دارد؟